

|            |  |
|------------|--|
|            |  |
| Kod ucznia |  |

**KURATORIUM OŚWIATY W GDAŃSKU  
KONKURS Z HISTORII DLA UCZNIÓW SZKÓŁ PODSTAWOWYCH  
I STOPIEŃ ELIMINACJI  
2018/2019**

**Instrukcja dla ucznia:**

Zapoznaj się uważnie z zadaniami i wykonaj polecenia. Na wykonanie zadań masz **45 min.**

Łączna suma punktów do zdobycia wynosi **50.**

*Wojewódzka Komisja Konkursowa życzy Ci powodzenia.*

**1. Wymień epoki historyczne w dziejach ludzkości w kolejności chronologicznej.**

- .....
- .....
- .....
- .....

2/ ....

**2. Zapoznaj się z pismem i odpowiedz na pytania.**



Źródło: <http://tiny.pl/gsqqp>

**A. Podaj, jak nazywa się to pismo.**

.....

1/ ....

**B. Podaj, kraj w którym je wprowadzono.**

.....

1/ ....

**3. Przeczytaj poniższy tekst źródłowy i odpowiedz na pytania.**

*Głównymi organami władzy była rada, bule, złożona z 500 członków, zgromadzenie ludowe, ekklesia, oraz sądy przysięgłych, heliaia. Jednakże wieloosobowość tych organów, składających się z setek czy nawet tysięcy ludzi, [...] uzasadniała konieczność skupienia funkcji kierowniczych, koordynujących, w ręku jednostki, odpowiedzialnej za całość polityki wewnętrznej i zewnętrznej, reprezentującej opinię ludu, choć nie zawsze zajmującej jakiś urząd. Był to tzw. demagog, przywódca ludu.*

J. Wolski, *Historia powszechna. Starożytność.* Warszawa 1994, s. 175.

**A. Podaj nazwę państwa, którego ustrój został opisany.**

.....

1/ ....

**B. Podaj wiek, w którym ustrój taki panował.**

.....

1/ ....

**4. Przyporządkuj bogom greckim ich rzymskich odpowiedników.**

- A. Zeus - .....
- B. Ares - .....
- C. Posejdon - .....
- D. Afrodyta - .....
- E. Hestia - .....

5/ ....

**5. Podaj imiona i przydomek opisanych postaci.**

| Lp. | Postać historyczna | Opis   |
|-----|--------------------|--|
| A.  |                    | Pierwszy rzymski cesarz, objął pełnię władzy w imperium rzymskim po bitwie pod Akcjum w 31 r. p.n.e. Przybrał tytuł <i>Imperator Caesar Augustus</i> .                 |
| B.  |                    | Uznawany za jednego z najwybitniejszych strategów w historii ludzkości, po bitwie pod Gaugamelą w 331 r. p.n.e. złamał potęgę Persji i dokonał jej podboju.            |
| C.  |                    | Władca Franków, w 800 r. przyjął z rąk papieża Leona III koronę cesarską wskrzeszając tym samym ideę imperium rzymskiego.  |
| D.  |                    | Książę Normandii, który po zwycięskiej bitwie pod Hastings 1066 r. przejął władzę w Anglii. Jego rządy doprowadziły do pełnego rozwoju systemu feudalnego w tym kraju. |

4/ ....

**6. Na mapie zaznaczono literami miejsce zamieszkiwania plemion słowiańskich z X w. Przyporządkuj im odpowiednie nazwy.**

|  |   |
|--|---|
|  | <p>A - .....</p> <p>B - .....</p> <p>C - .....</p> <p>D - .....</p> |
|--|---|

4/ ....

**7. Uzupełnij tabelę dotyczącą początków reformacji w Europie.**

| data    | kościół   | twórca (imię i nazwisko/przydomek) |
|---------|-----------|------------------------------------|
| 1517    | A. ....   | B. ....                            |
| 1534    | C. ....   | D. ....                            |
| E. .... | kalwinizm | F. Jan Kalwin                      |

5/ ....

**8. Zapoznaj się ze zdjęciem i wykonaj polecenia.**



Źródło: <http://tiny.pl/gsqql>

**A. Nazwij styl, w jakim wybudowano tę budowlę.**

.....

1/ ....

**B. Podaj wiek, w którym pierwsze tego typu budowle pojawiły się na ziemiach polskich.**

.....

1/ ....

**9. Podkreśl cztery rodzaje uzbrojenia używanego przez polskiego husarza w XVII wieku.**

*arkebuz, hakownica, halabarda, koncerz, kopia, kusza, lanca, luk, miecz, pistolet, szabla,*

4/ ...

**10. Przyporządkuj imię władcy Polski do odpowiedniej dynastii.**

|    |               |
|----|---------------|
| A. | August II     |
| B. | Zygmunt II    |
| C. | Kazimierz III |
| D. | Władysław IV  |

|    |                      |
|----|----------------------|
| 1. | dynastia Wettinów    |
| 2. | dynastia Jagiellonów |
| 3. | dynastia Walezjuszy  |
| 4. | dynastia Piastów     |
| 5. | dynastia Wazów       |

A - .... B - .... C - .... D - ....

2/ ....

**11. Przeczytaj i uzupełnij tekst.**

Jedną z przyczyn słabości Rzeczypospolitej w XVIII była zasada zezwalająca pojedynczemu posłowi zerwanie obrad sejmu nazywana z języka łacińskiego A. ....  
..... . Słabość Polski wykorzystali nasi sąsiedzi, doprowadzając w roku B. ....  
do I rozbioru. W celu wzmocnienia państwa przeprowadzono liczne reformy w trakcie trwania Sejmu Wielkiego zwanego C. .... Jego obradom przewodniczył D. ....  
..... . Niestety nie uchroniło to Rzeczypospolitej przed II rozbiorem w 1793 r. którego dokonały dwa państwa: E ..... i ..... . Ostatni rozbiór naszego państwa nastąpił w 1795 r. po nieudanym powstaniu kościuszkowskim.





5/ ....

**12. Zapoznaj się z mapą i zakreśl właściwą odpowiedź.**

|  |   |
|--|---|
|  <p style="text-align: center;">Źródło: <a href="http://tiny.pl/gsqqn">http://tiny.pl/gsqqn</a></p> | <p><b>Na mapie konturowej współczesnej Polski szarym kolorem pokazano granice</b></p> <p>A. Rzeczypospolitej Polskiej z 1793 r.<br/>         B. Księstwa Warszawskiego z 1807 r.<br/>         C. Księstwa Warszawskiego z 1812 r.<br/>         D. Królestwa Polskiego z 1815 r.</p> |
|--|---|

1/ ....

**13. Podaj imiona i nazwiska postaci oraz opisz krótko, czego dokonali.**

|  |  |   |  |
|--|--|---|--|
|  |  |  |  |
| <b>A.</b>  | <b>B.</b>  | <b>C.</b>   | <b>D.</b>  |

A. .... - .....

B. .... - .....

C. .... - .....

D. .... - .....

8/ ....

**14. Nazwij opisane pojęcia dotyczące gospodarki z okresu międzywojennego.**

|           |   |
|-----------|---|
| <b>A.</b> | Wydarzenia z giełdy nowojorskiej z 24 października 1929 r., kiedy ceny akcji gwałtownie spadły a akcjonariusze wyprzedali 12 mln akcji. |
| <b>B.</b> | Program amerykańskiego prezydenta F. Roosevelta ogłoszony w 1933r. polegający na pobudzeniu gospodarki poprzez inwestycje państwowe.    |
| <b>C.</b> | Linia kolejowa zbudowana w Polsce w latach 1926-1933 w ramach współpracy polsko-francuskiej, łącząca Katowice z Gdynią.                 |
| <b>D.</b> | Okręg przemysłu ciężkiego zbudowany w latach 1936-1939 na terenach centralnej i południowej Polski m.in. w celu walki z bezrobociem.    |

4/ ....

podpis sprawdzającego

suma punktów: .....

## Model odpowiedzi:

1.

starożytność, średniowiecze, nowożytność, czasy najnowsze/współczesność/czasy współczesne

0-2 pkt, 2 pkt za pełną poprawną odpowiedź, 1 pkt za trzy poprawne odpowiedzi

2.

A. hieroglify [pismo hieroglificzne]

B. Egipt

0-2 pkt, po 1 pkt za każdą poprawną odpowiedź

3.

A. Ateny

**Uwaga!** Nie zaliczamy odpowiedzi: Grecja

B. VI-IV w. p.n.e

**Uwaga!** Do zaliczenia wystarczy wskazanie jednego z wieków z określeniem – p.n.e.

0-2 pkt, po 1 pkt za każdą poprawną odpowiedź

4.

A. Zeus - Jowisz

B. Ares - Mars

C. Posejdon - Neptun

D. Afrodyta - Wenus

E. Hestia - Westa

0-5 pkt, po 1 pkt za każdą poprawną odpowiedź

5.

A. Oktawian [August]

B. Aleksander [III] Macedoński/Aleksander [III] Wielki

C. Karol [I] Wielki

D. Wilhelm [I] Zdobywca

0-4 pkt, po 1 pkt za każdą poprawną odpowiedź

6.

A. Polanie

B. Mazowszanie

C. Wiślanie

D. Pomorzanie

0-4 pkt, po 1 pkt za każdą poprawną odpowiedź

7.

A. luteranizm

B. Marcin Luter

C. anglikanizm

D. Henryk VIII

E. 1536

0-5 pkt, po 1 pkt za każdą poprawną odpowiedź

8.

A. styl romański

B. XI w. (n.e.)

0-2 pkt, po 1 pkt za każdą poprawną odpowiedź

9.

Koncert, kopia, pistolet, szabla

**Uwaga!** Po jednym punkcie za prawidłową odpowiedź.

0-4 pkt, po 1 pkt za każdą poprawną odpowiedź

**10.**

A-1, B-2, C-4, D-5

0-2 pkt, 2 pkt za wszystkie poprawne odpowiedzi, 1 pkt za 3 poprawne odpowiedzi

**11.**

A. *liberum veto*,

B. 1772,

C. (Sejm) Czteroletnim

D. Stanisław Małachowski,

E. Rosja, Prusy

0-5 pkt, po 1 pkt za każdą poprawną odpowiedź

**12.**

D

0-1 pkt, 1 pkt za poprawną odpowiedź

**13.**

A. Romuald Traugutt, stanął na czele powstania styczniowego

B. Józef Piłsudski, utworzył Legiony Polskie, dowodził wojskami polskimi w wojnie z bolszewikami

C. Otto von Bismarck, doprowadził do zjednoczenia Niemiec

D. Włodzimierz Lenin, stanął na czele rewolucji bolszewickiej w Rosji

Uwaga! Należy uznać każdą poprawną merytorycznie odpowiedź

0-8 pkt, po 1 pkt za każde poprawne nazwanie postaci i po 1 pkt za każde poprawne opisanie postaci

**14.**

A. czarny czwartek

B. Nowy Ład [New Deal]

C. magistrała węglowa [węglówka]

D. Centralny Okręg Przemysłowy [COP]

0-4 pkt, po 1 pkt za każdą poprawną odpowiedź