

Kod ucznia	

**KURATORIUM OŚWIATY W GDAŃSKU**  
**KONKURS Z HISTORII DLA UCZNIÓW SZKÓŁ PODSTAWOWYCH**  
**III STOPIEŃ ELIMINACJI**  
**2019/2020**

**Instrukcja dla ucznia:**

Zapoznaj się uważnie z zadaniami i wykonaj polecenia. Na wykonanie zadań masz **90 min.**

Łączna suma punktów do zdobycia wynosi **60.**

*Wojewódzka Komisja Konkursowa życzy Ci powodzenia.*

**1. Przyporządkuj nazwy do odpowiednich opisów.**




A	<i>Australopithecus</i>
B	<i>Homo erectus</i>
C	<i>Homo habilis</i>
D	<i>Homo neanderthalensis</i>

1	Pierwsza z małp człekokształtnych, która pojawiła się około 4-5 mln lat temu.
2	Człowiek zręczny, znany głównie z Afryki Wschodniej, sprzed 2 mln lat.
3	Człowiek wyprostowany, żyjący w Afryce, Azji i Europie już 1,8 mln lat temu.
4	Przedstawiciel rodzaju homo żyjący w okresie od około 400 tys. do 25 tys. lat temu.
5	Jedyny gatunek hominida występujący współcześnie na wszystkich kontynentach.

A - .... B - .... C - .... D - ....

.... /2

**2. Zapoznaj się z greckimi rzeźbami i podpisz ich nazwy.**

		
A. .... .....	B. .... .....	C. .... .....

Źródła: <https://tiny.pl/tw8m4>; <https://tiny.pl/tw8m2>

.... /3

**3. Wymień trzy przyczyny upadku cesarstwa rzymskiego.**

- .....
- .....
- .....

.... /3

4. Zapoznaj się z napisem na tablicy i wykonaj polecenia.



A. Zapisz cyframi arabskimi podaną na tablicy datę.

Data: .....

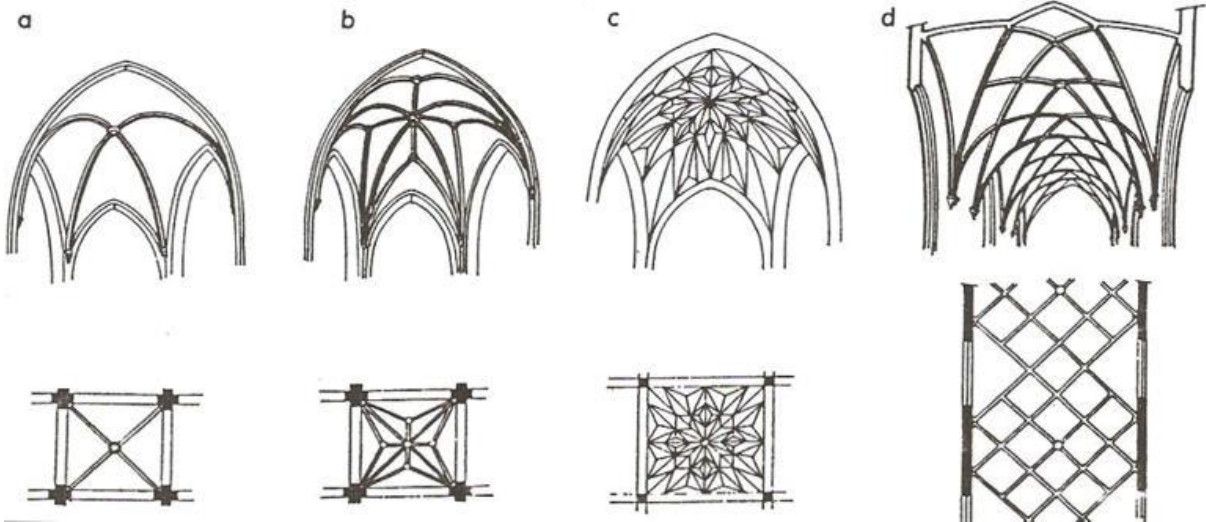
B. Podaj jedno wydarzenie z historii Polski, do którego doszło w podanym roku.

.....  
 .....  
 .....  
 .....

Źródło: <https://tiny.pl/tw8mg>

.... /2

5. Nazwij przedstawione na rysunkach rodzaje sklepień gotyckich.




Źródło: <https://tiny.pl/tw2zj>

A. .... B. .... C. .... D. ....  
 .....  
 .....

.... /4

6. Zapoznaj się z flagą i godłem i zaznacz prawidłowe zakończenie zdania.

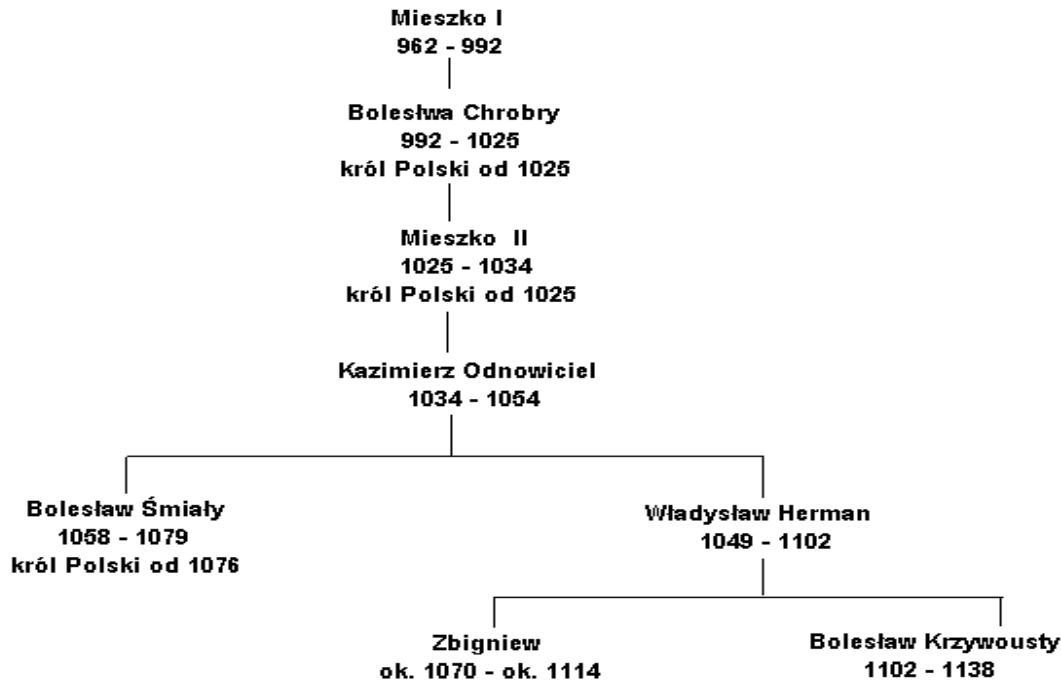


Przedstawione symbole odnoszą się do

- A. Państwa Wizygotów z VII w.
- B. Państwa Karolingów z VIII w.
- C. Cesarstwa Bizantyjskiego z IX w.
- D. Świętego Cesarstwa Rzymskiego z X w.

.... /1

**7. Na podstawie drzewa genealogicznego i wiedzy własnej uzupełnij tabelę. Wpisz „prawda” lub „fałsz” w puste miejsca.**



Źródło: <https://tiny.pl/tw8gx>

A.		Przydomek „Lambert” został nadany drugiemu królowi Polski.
B.		Trzeci król Polski był stryjem Bolesława Krzywoustego.
C.		Władysław Herman panował na przełomie X i XI wieku.
D.		Prawnuk Mieszka I panował przez dwie dekady.
E.		Łużyce i Milsko były w granicach Polski pod panowaniem Zbigniewa.

.... /2

**8. Zapoznaj się z tekstem źródłowym i podaj rok oraz miejsce jego powstania.**

*W imię Pańskie. Amen. Ponieważ sprawy książąt winny być pamięci przyszłych pokoleń bez żadnej skazy przekazane, zaś potwierdzenia, swobody, wolności, przywileje dokumenty do zastosowania na wieczne czasy podane, przeto mu, Ludwik, z bożej łaski, węgierski, polski, dalmacki itd. Król, chcemy, aby doszło do wiadomości wszystkich, tak obecnych, jak i przyszłych, że:*

*6. Chcemy zadowolić się tym tylko, aby corocznie na św. Marcina wyznawcę nam i następcom naszym na znak najwyższego panowania i uznania korony Królestwa Polskiego płacono po dwa grosze zwykłej monety, w Królestwie obieg mającej, których czterdzieści osiem idzie na grzywnę polską, z każdego osiadłego i dzierzzonego łanu lub jego części.*

*7. Zastrzegamy, iż jeśliby skądkolwiek nastąpił na Królestwo najazd nieprzyjacielski, wtedy szlachta koronna ma przybiec z całą swoją siłą ku odwróceniu jego grozy.*

*Źródło: Wiek V-XV w źródłach, opr. M. Sobańska-Bondaruk, S. B. Lenard, Warszawa 1997, s. 184.*

.....

.... /1

**9. Przyporządkuj postać do odpowiedniej epoki.**




A.	Jan Kochanowski
B.	Adam Mickiewicz
C.	Wojciech Bogusławski
D.	Wacław Potocki

1.	średniowiecze
2.	renesans
3.	barok
4.	oświecenie
5.	romantyzm

A - .... B - .... C - .... D - ....

.... /2

**10. Zapoznaj się z rodzajami alfabetów i podaj, jak nazywali się ich twórcy.**

 <p><a href="https://tiny.pl/tw8xh">https://tiny.pl/tw8xh</a></p>	 <p><a href="https://tiny.pl/tw8xq">https://tiny.pl/tw8xq</a></p>	 <p><a href="https://tiny.pl/tpg7c">https://tiny.pl/tpg7c</a></p>
<p>A. ....</p>	<p>B. ....</p>	<p>C. ....</p>

.... /3

**11. Zapoznaj się z wydarzeniami i wykonaj polecenia.**

- A. klęska wojsk polskich pod Korsuniem
- B. klęska wojsk polskich pod Piławcami
- C. klęska wojsk polskich pod Żółtymi Wodami
- D. porażka wojsk Chmielnickiego pod Beresteczkiem
- E. przymierze Kozaków z Tatarami
- F. ugoda w Białej Cerkwi

**A. Podaj nazwę i rok rozpoczęcia wydarzenia historycznego, w czasie którego miały miejsce powyższe zdarzenia.**

.....

.... /1

**B. Uporządkuj zdarzenia w kolejności chronologicznej.**

1- .... 2 - .... 3 - .... 4 - .... 5 - .... 6 - ....

.... /2

**12. Wyjaśnij, na czym polegała polityka merkantylizmu.**

.....  
 .....  
 .....  
 .....  
 .....

.... /2



**14. Zapoznaj się z tekstem źródłowym i zaznacz prawidłowe dokończenie zdania.**

*Moim nadrzędnym celem w tej walce pozostaje zachowanie jedności Unii, a nie zniesienie czy zachowanie niewolnictwa. Gdybym mógł ocalić Unię nie uwalniając ani jednego niewolnika, zrobiłbym to; a gdybym mógł ocalić Unię uwalniając wszystkich niewolników, również bym to zrobił; a gdybym mógł ją ocalić uwalniając tylko część niewolników, a pozostawiając w niewoli innych, również i to bym zrobił. Działania, które podejmuję w kwestii niewolnictwa i rasy kolorowej, wynikają z mojej wiary w to, że przyczyniają się one do ocalenia Unii; a jeśli od czegoś odstępuję, czynię tak, ponieważ nie wierzę, aby mogło to ocalić Unię.*

Źródło: A. Axelrod, Decyzje, które wstrząsnęły światem. Od starożytności do współczesności, Warszawa 2007, s. 133.

Z treści przedstawionych 22 sierpnia 1861 r. poglądów, wynika, że	A.	Abraham Lincoln	był	1.	idealistą.
	B.	George Washington		2.	pragmatykiem.
	C.	Jefferson Davis		3.	rasistą.
	D.	Thomas Jefferson		4.	rewolucjonistą.

.... /1

**15. Przyporządkuj wymienionym postaciom ich biogramy.**

*Adam Jerzy Czartoryski, Franciszek Ksawery Drucki-Lubecki,  
Walerian Łukasiński, Wincenty Niemojowski*

A.	Jeden z braci, będący przywódcą posłów z województwa kaliskiego, protestujący przeciwko ograniczeniom praw i wolności w Królestwie Polskim.
B.	Służył w armii Księstwa Warszawskiego i Królestwa Polskiego, za działalność spiskową w Towarzystwie Patriotycznym skazany na dożywotnie więzienie w Szlisselburgu.
C.	Minister skarbu Królestwa Polskiego. Przyczynił się do uporządkowania finansów, założenia Banku Polskiego i budowy Kanału Augustowskiego.
D.	Konserwatywny mąż stanu, minister spraw zagranicznych Rosji, współtwórca konstytucji Królestwa Polskiego, założyciel obozu politycznego Hotel Lambert.

.... /4

**16. Zapoznaj się z dialogiem i uzupełnij tekst.**





- *Któż tu panuje?*
- *Król saski.*
- *Jakież tu wojsko?*
- *Polskie.*
- *Jakież prawo?*
- *Francuskie.*
- *A jakież pieniądze?*
- *Pruskie.*

Państwo, którego dotyczyła rozmowa, to A. ....  
Zostało ono utworzone przez B. .... w roku C. ....

.... /3

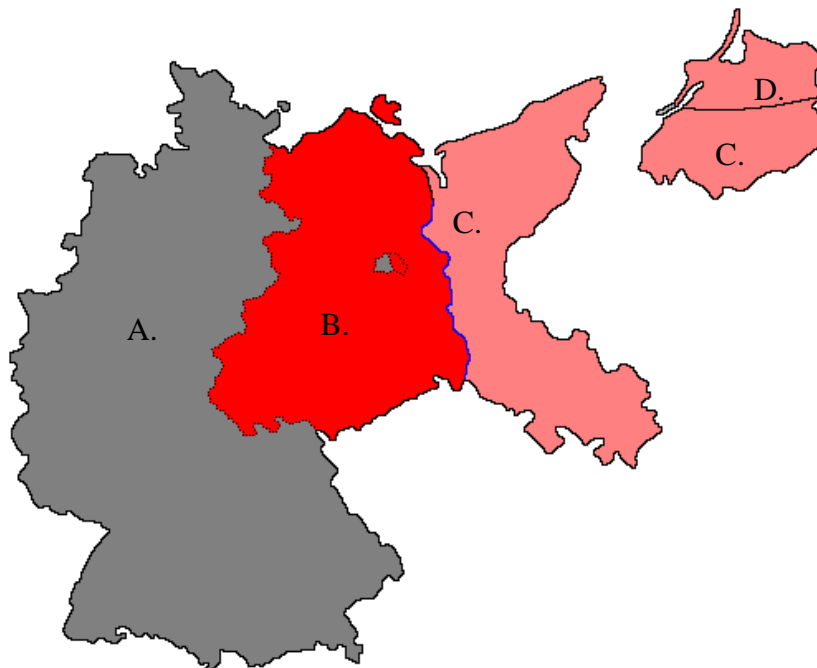
17. Zapoznaj się z rysunkami, przedstawiającymi umundurowanie z czasów II wojny światowej i przyporządkuj im odpowiednie podpisy spośród podanych. Jeden podpis jest zbędny.

*żołnierz amerykański, żołnierz japoński, żołnierz niemiecki,  
żołnierz polski, żołnierz radziecki*

			
A. .... .....	B. .... .....	C. .... .....	D. .... .....

Źródła: <https://tiny.pl/tw8qq>; <https://tiny.pl/tw8qw>; <https://tiny.pl/tw8qr>; <https://tiny.pl/tw8qc>  
.... /4


18. Określ przynależność państwową obszarów należących wcześniej do III Rzeszy Niemieckiej w latach 1945-1990.



Lp.	Nazwa państwa
A.	
B.	
C.	
D.	

.... /4

**19. Zapoznaj się z rysunkiem satyrycznym i wykonaj polecenia.**



Źródło: <https://tiny.pl/tw8hk>

**A. Przedstaw, kogo lub co reprezentują obie postacie na rysunku.**

.....  
 .....  
 .....





**B. Wyjaśnij, jakie dwa wydarzenia wpłynęły na zmianę nastawienia do siebie ukazanych postaci.**

.....  
 .....  
 .....

.... /4

**20. Przyporządkuj symbolom odpowiednie określenia spośród podanych.**

*Polska Walcząca, Pomnik Poległym i Pomordowanym na Wschodzie,  
 Pomnik Poległych Stoczniovców, Szare Szeregi,  
 Wojskowa Rada Ocalenia Narodowego*

			
A. .... ..... .....	B. .... ..... .....	C. .... ..... .....	D. .... ..... .....

Źródło: <https://tiny.pl/tw896>

.... /4

**Wypełnia egzaminator**

Zad. 1	Zad. 2	Zad. 3	Zad. 4	Zad. 5	Zad. 6	Zad. 7	Zad. 8	Zad. 9	Zad. 10
..../2	..../3	..../3	..../2	..../4	..../1	..../2	..../1	..../2	..../3
Zad. 11	Zad. 12	Zad. 13	Zad. 14	Zad. 15	Zad. 16	Zad. 17	Zad. 18	Zad. 19	Zad. 20
..../3	..../2	..../8	..../1	..../4	..../3	..../4	..../4	..../4	..../4

podpis sprawdzającego

suma punktów: .....