

Kod ucznia	

**KURATORIUM OŚWIATY W GDAŃSKU**  
**KONKURS Z HISTORII DLA UCZNIÓW SZKÓŁ PODSTAWOWYCH**  
**II STOPIEŃ ELIMINACJI**  
**2020/2021**

**Instrukcja dla ucznia:**

Zapoznaj się uważnie z zadaniami i wykonaj polecenia. Na wykonanie zadań masz **60 min.**

Łączna suma punktów do zdobycia wynosi **60.**

*Wojewódzka Komisja Konkursowa życzy Ci powodzenia.*

**1. Przyporządkuj cywilizacji antycznej odpowiednią lokalizację.**

A	Kultura minojska
B	Kultura mykeńska
C	Fenicjanie
D	Żydzi
E	Grecja w okresie klasycznym

1	Argos (Peloponez)
2	Ateny
3	Babilon
4	Kartagina
5	Kreta
6	Jerozolima

A - .... B - .... C - .... D - .... E - .... .... /2

**2. Na podstawie zdjęcia i opisu podaj nazwę ornamentu.**



Ornament roślinny wywodzący się ze sztuki grecko-rzymskiej. Z Europy trafił do świata islamu. Ponowną popularność przeżył w okresie renesansu i klasycyzmu.

Źródło: <https://tiny.pl/7cnrr>

..... .... /1

**3. Zapoznaj się ze zdjęciem i uzupełnij tekst.**



Przedstawiona na zdjęciu rzeźba nosi nazwę A. .... Jest to jedna z wielu kopii niezachowanego posągu słynnego w V w. p.n.e. greckiego rzeźbiarza B. .... Autor przedstawił osobę trenującą jedną z dyscyplin pięcioboju olimpijskiego. Konkurencje rozgrywane były co cztery lata podczas C. ...., a okres między nimi nazywano D. .... Ideę cyklicznych zawodów sportowych przywrócił Francuz, Pierre de Coubertin, organizując w 1896 r. w (mieście) E. .... pierwsze nowożytne igrzyska olimpijskie.

Źródło: <https://tiny.pl/7cn7s>

.... /5

#### 4. Podaj daty roczne chrztu.

- A. Chlodwiga I, władcy Franków z dynastii Merowingów - .....
- B. Gdańszczan ochrzczonych przez biskupa Wojciecha - .....
- C. Jagiełły wielkiego księcia litewskiego i króla polskiego - .....
- D. Mieszka I, księcia z dynastii Piastów i jego dworu - .....
- E. Pierwszych sześciu Indian, przybyłych do Hiszpanii z Kolumbem - .....

.... /5

#### 5. Podaj współczesne nazwy miast polskich, które wywodziły swoje pierwotne nazwy od imion lub nazwisk ich założycieli. Użyj nazw spośród podanych.

*Gdańsk, Kazimierz Dolny, Kraków, Warszawa, Władysławowo, Zamość*

Lp.	Nazwa	Opis
A		Nieduże miasto w województwie pomorskim, które otrzymało w XX wieku prawa miejskie. Nazwę swoją zawdzięcza królowi polskiemu, który w XVII wieku w jego okolicach nakazał zbudowanie dwóch fortów i portu floty wojennej. Przez krótki czas w XX wieku, jego nazwa nawiązywała do nazwiska jednego z polskich generałów.
B		Nieduże miasto w województwie lubelskim, które po raz pierwszy prawa miejskie otrzymało w XIV wieku. Jego nazwa wywodzi się od imienia dwóch władców Polski. Pierwszy z nich miał przekazać istniejący tam klasztor norbertankom, a drugi założyć miasto i zbudować zamek.
C		Średniej wielkości miasto w województwie lubelskim, które zostało założone w XVI w. przez kanclerza i hetmana wielkiego w jednej osobie. Ze względu na swoją unikalną architekturę urbanistyczną zostało okrzyknięte „perłą renesansu”. Obecnie jego Stare Miasto znajduje się na Liście Światowego Dziedzictwa UNESCO.
D		Duże miasto w centralnej Polsce, którego nazwa nawiązuje do dwojga legendarnych założycieli. Najprawdopodobniej jednak wywodzi się od słowiańskiego imienia przedstawiciela rodu Rawów (Rawiczów), którzy byli właścicielami terenów, na których osada powstała.
E		Duże miasto w południowej Polsce, którego nazwa według legendy spisanej w XII wieku przez Wincentego Kadłubka wywodzi się od imienia władcy. Jako jedyne miasto w Polsce ma prawo używać w herbie godło państwa polskiego. Jego m.in. jego Stare Miasto znajduje się na Liście Światowego Dziedzictwa UNESCO.

.... /5

#### 6. Zakreśl w podanym zestawie cztery produkty, które nie mogły się znajdować na stole mieszkańca Europy w XIV w.

*burak, bób, cebula, chleb pszeniczny, ciecierzycyca, czosnek, indyk, jabłko, kapusta, kasza gryczana, marchew, miód, papryka, pietruszka, pomidor, wieprzowina, wołowina, ziemniak*

.... /4

## 7. Zapoznaj się z fasadą kościoła Il Gesù i uzupełnij tekst.



Źródło: <https://tiny.pl/7cnxw>

*Il Gesù*, czyli Kościół Jezusa, to główny i macierzysty kościół powstałego w XVI w. zakonu A. ...., znajdujący się w (mieście) B. .... Świątynia stanowi prototyp wielu budowli w stylu C. .... zbudowanych w całej Europie. Na jego fasadzie znajdują się zdwojone D. ...., czyli płaskie filary nawiązujące swoją formą do greckiego stylu E. .... Wspierają one belkowanie, we fryzie którego znajduje się napis: *Alexander Cardinalis Farnesius, S[anctae] R[omanae] E[cclisiae] Vice-Can[cellarius], fecit MDLXXV*, co oznacza po łacinie, że kardynał Aleksander Farnese sfinansował jego budowę w roku F. .... Nad wejściami bocznymi do kościoła umieszczono wnęki, nazywane w architekturze G. .... Znajdują się w nich figury świętych: po lewej św. Ignacego Loyolę depczącego postać symbolizującą herezję, po prawej św. Franciszka Ksawerego depczącego uosobienie pogaństwa.

.... /7

## 8. Przeczytaj poniższy tekst źródłowy i wykonaj zadania.

*Cesarz chiński zorganizował najambitniejszą w historii wyprawę morską. Pod dowództwem admirała Zheng He wysłał w podróż dwadzieścia osiem tysięcy marynarzy na pokładzie 317 olbrzymich okrętów, z których każdy był pięciokrotnie większy od statków Kolumba. Świat nie ujrzy kolejnej wyprawy przygotowanej z takim rozmachem przez następne czterysta lat. Nie raz, ale siedmiokrotnie, [...], admirał Zheng He przemierzał znany świat, opłynął Azję Południowowschodnią, minął Bliski Wschód i ostatecznie dotarł do Afryki Wschodniej. Zachowały się stare ryciny przedstawiające dziwne zwierzęta, takie jak żyrafy, które przywieziono z tej ekspedycji i pokazywano na dworze cesarskim.*

*Po śmierci cesarza nowi władcy stwierdzili jednak, że nie interesują ich wyprawy morskie ani odkrycia. Wydali nawet dekret zakazujący obywatelom cesarstwa posiadania łodzi. Samą flotę zostawiono na pastę losu i pozwolono, by splanęła, a wszystkie opisy wielkich dokonań admirała Zheng He zostały utajnione. Następni cesarze w zasadzie całkowicie odcięli Chiny od zewnętrznego świata. Państwo skupiło się na sobie, co przyniosło katastrofalne konsekwencje i doprowadziło ostatecznie do upadku kraju, jego całkowitej zapaści, chaosu, wojny domowej i rewolucji.*

Źródło: M. Kaku, *Przyszłość ludzkości*, Warszawa 2018, s. 61-62.

**A. Zaznacz prawidłową odpowiedź.**

Opisane wyprawy miały miejsce w

1. I poł. XV w.
2. II poł. XV w.
3. I poł. XVI w.
4. II poł. XVI w.

**B. Wyjaśnij, dlaczego mimo spektakularnych osiągnięć ekspedycji admirała Zheng He, nie są one współcześnie uznawane za przełomowe w poznawaniu świata. Podaj po jednym argumentem na podstawie tekstu oraz wiedzy własnej.**

Argument z tekstu - .....

Argument spoza tekstu - .....

**C. Zaznacz prawidłową odpowiedź.**

Opisana w tekście wojna domowa i rewolucja rozegrały się w

1. I poł. XIX w.
2. II poł. XIX w.
3. I poł. XX w.
4. II poł. XX w.

.... /4

**9. Przeczytaj tekst źródłowy i podaj**

***Wielka Karta Wolności (Magna Charta Libertatum) z 15 VI 1215 r.***

*Jan z łaski bożej, król Anglii, pan Irlandii, książę Normandii, Akwitanii, hrabia andegaweński, arcybiskupom, biskupom, opatom, hrabiom, baronom itd., wszystkim bajlifom i wiernym swoim pozdrowienie. [...]*

*[...] 12. Żadne „tarczowe” lub „pomocne” nie będzie nałożone na królestwo nasze inaczej, jak tylko za [zgodą] wspólnej rady królestwa naszego, z wyjątkiem opłat na wykupienie osoby naszej [z niewoli], z okazji pasowania syna naszego pierworodnego na rycerza i wydania za mąż córki naszej pierworodnej raz jeden tylko, a i w tych wypadkach „pomocne” t nie ma przewyższać uzasadnionej wysokości; to samo ma dotyczyć „pomocnego” z miasta Londynu [...].*

*39. Żaden wolny człowiek nie ma być pojmany ani uwięziony, albo wyrzucony z posiadłości, albo proskrybowany, ani wygnany lub innym sposobem pognębiony; i ani sami na niego nie wyruszymy, ani nikogo innego przeciw niemu nie wyślemy, jak tylko na podstawie legalnego wyroku równych jemu, albo na podstawie prawa ziemskiego. [...]*

Wiek V-XV w źródłach. Wybór tekstów źródłowych z propozycjami metodycznymi dla nauczycieli historii i studentów, opr. M. Sobańska-Bondaruk, S.B. Lenard, Warszawa 1997, s. 173-174.

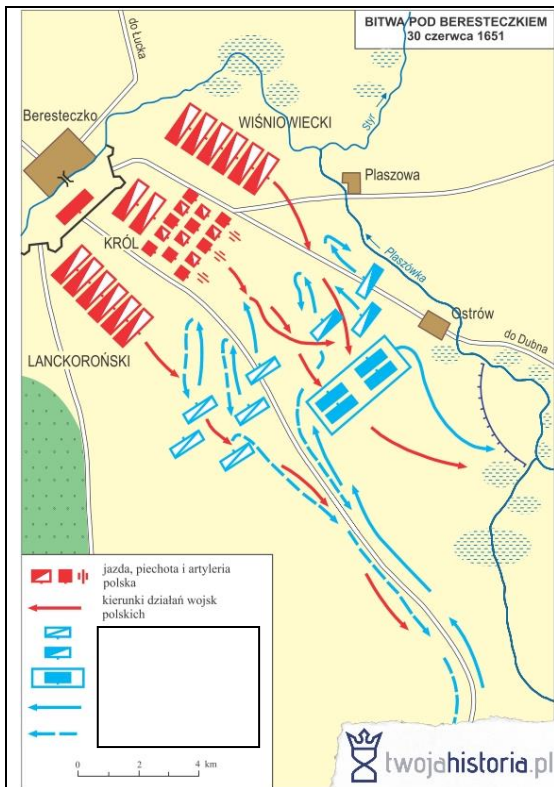
A. Nazwij dwa prawa, których pozbawił się król Jan bez Ziemi wydając powyższy dokument.

- .....
- .....

B. Podaj nazwy trzech współczesnych państw, na które rozciągała się władza tytułarna króla Jana bez Ziemi.

..... /5

**10. Zapoznaj się z planem bitwy pod Beresteczkiem z 1651 r. i wykonaj zadania.**



**A. Podaj imię króla polskiego, który dowodził w bitwie.**

**B. Podaj, kto był przeciwnikiem strony polskiej.**

**C. Podaj, jaki był wynik tej bitwy dla strony polskiej.**

Źródło: <https://tiny.pl/7ckz2>

.... /3

**11. Przyporządkuj postaci właściwy opis.**


A	Jan Jakub Rousseau
B	Karol Monteskiusz
C	François Marie Arouet (Wolter)
D	Adam Smith
E	Karol Marks

1	Zaproponował wprowadzenie trójpodziału władzy zamiast rządów absolutnych.
2	Zwolennik liberalizmu w gospodarce. Twierdził, że wolna konkurencja i prawo własności to podstawa dobrobytu.
3	W swoich utworach krytykował zacofanie, brak tolerancji i chciwość kościoła katolickiego.
4	Przeciwnik ograniczenia władzy królewskiej na rzecz rządu i parlamentu.
5	Zwolennik utworzenia państwa, w którym wszyscy będą równi, a rządzący będą rządili dla dobra obywateli.
6	Uważał, że kapitalizm jest niesprawiedliwy i powinien zostać obalony siłą przez robotników,

A - .... B - .... C - .... D - .... E - ....

.... /2

**12. Zapoznaj się z rysunkiem satyrycznym i wykonaj zadanie.**



Źródło: <https://tiny.pl/7ck3s>

**A. Nazwij jednym słowem, do jakiego zjawiska w historii odnosi się satyra.**

**B. Na podstawie rysunku, podaj dwa skutki tego zjawiska.**

.... /3

**13. Wpisz „prawda” lub „fałsz” przy każdym zdaniu dotyczącym II Rzeczypospolitej.**

A	Najważniejszym sojusznikiem Polski była Czechosłowacja.
B	Pierwszym prezydentem został Gabriel Narutowicz.
C	Najliczniejszą mniejszością narodową byli Niemcy.
D	Zajęcie przez wojsko polskie tzw. Zaolzia nastąpiło w marcu 1939 r.
E	Budowa portu i miasta Gdyni rozpoczęła się w 1925 r.
F	Złoty polski został wprowadzony reformą Władysława Grabskiego.


.... /4

**14. Podaj kryptonimy operacji wojskowych z czasów II wojny światowej.**

A	Największa operacja desantowo-morska, która rozpoczęła się 6 czerwca 1944 r. w Normandii.
B	Celem tej operacji z 1944 r. było zdobycie szeregu mostów w Holandii z wykorzystaniem desantu spadochroniarzy.
C	Niezrealizowany plan inwazji Niemiec na Wielką Brytanię podczas II wojny światowej.
D	Zrealizowany plan ataku niemieckiego na Polskę opracowany od kwietnia 1939 r.

.... /4

**15. Zapoznaj się ze zdjęciem z konferencji pokojowej w Poczdamie i podpisz znajdujących się na niej polityków, podając kraje, które reprezentowali.**



Od lewej:

- A. ....  
 .....  
 .....  
 B. ....  
 .....  
 .....  
 C. ....  
 .....  
 .....

Źródło: <https://tiny.pl/7cnmz>

.... /6

**Wypełnia egzaminator.**

Zad. 1	Zad.2	Zad.3	Zad. 4	Zad. 5	Zad. 6	Zad. 7	Zad. 8
..../2	..../1	..../5	..../5	..../5	..../4	..../7	..../4
Zad. 9	Zad. 10	Zad.11	Zad.12	Zad. 13	Zad. 14	Zad. 15	
..../5	..../3	..../2	..../3	..../4	..../4	..../6	

podpis sprawdzającego

suma punktów: .....