

Kod ucznia	

KURATORIUM OŚWIATY W GDAŃSKU
KONKURS Z HISTORII DLA UCZNIÓW SZKÓŁ PODSTAWOWYCH
I STOPIEŃ ELIMINACJI
2019/2020

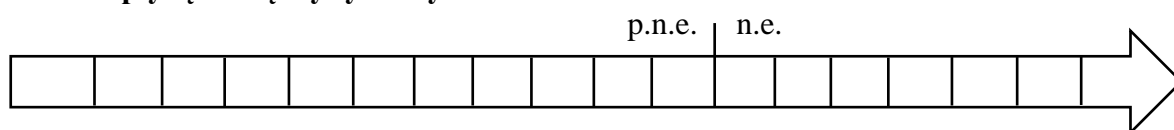
Instrukcja dla ucznia:

Zapoznaj się uważnie z zadaniami i wykonaj polecenia. Na wykonanie zadań masz **45 min.**

Łączna suma punktów do zdobycia wynosi **50.**

Wojewódzka Komisja Konkursowa życzy Ci powodzenia.

1. Zaznacz na osi czasu pionowymi kreskami i podpisz daty założenia Rzymu i upadku cesarstwa zachodniorzymskiego. Załóż, że jedna podziałka to 100 lat. Następnie oblicz, ile czasu upłynęło między tymi wydarzeniami.




Odpowiedź:

Między wydarzeniami upłynęło lat.

.... /3

2. Zapoznaj się z pismem i zaznacz prawidłowe odpowiedzi.



Źródło: <https://tiny.pl/tw5q1>

A. Na rysunku przedstawiono symbol

1. buddyzmu. 2. chrześcijaństwa. 3. hinduizmu. 4. islamu.

B. Religia, której symbol ukazano narodziła się w

1. VI w. p.n.e. 2. I w. n.e. 3. VI w. n.e. 4. VII w. n.e.

.... /2

3. Przeczytaj poniższy tekst źródłowy i odpowiedz na pytania.

Głównymi organami władzy była rada, bule, złożona z 500 członków, zgromadzenie ludowe, ekklesia, oraz sądy przysięgłych, heliaia. Jednakże wieloosobowość tych organów, składających się z setek czy nawet tysięcy ludzi, [...] uzasadniała konieczność skupienia funkcji kierowniczych, koordynujących, w ręku jednostki, odpowiedzialnej za całość polityki wewnętrznej i zewnętrznej, reprezentującej opinię ludu, choć nie zawsze zajmującej jakiś urząd. Był to tzw. demagog, przywódca ludu.

J. Wolski, Historia powszechna. Starożytność. Warszawa 1994, s. 175.

A. Podaj nazwę państwa, którego ustrój został opisany.

.....

.... /1

B. Podaj okres, w którym ustrój taki panował.

.....

.... /1

4. Przyporządkuj bogom greckim ich rzymskich odpowiedników.

- A. Zeus -
- B. Ares -
- C. Posejdon -
- D. Afrodyta -
- E. Hestia -

.... /5

5. Podaj imiona i przydomek opisanych postaci.

Lp.	Postać historyczna	Opis
A.		Pierwszy rzymski <i>princeps</i> , objął pełnię władzy w imperium rzymskim po bitwie pod Akcjum w 31 r. p.n.e. Przybrał tytuł <i>Imperator Caesar Augustus</i> .
B.		Uznawany za jednego z najwybitniejszych strategów w historii ludzkości, po bitwie pod Gaugamelą w 331 r. p.n.e. złamał potęgę Persji i dokonał jej podboju.
C.		Władca Franków, w 800 r. przyjął z rąk papieża Leona III koronę cesarską wskrzeszając tym samym ideę imperium rzymskiego.
D.		Książę Normandii, który po zwycięskiej bitwie pod Hastings 1066 r. przejął władzę w Anglii. Na ziemiach odebranych baronom anglosaskim osadzał rycerstwo normandzkie..

.... /4

6. Na mapie zaznaczono literami miejsce zamieszkiwania plemion słowiańskich (polskich) z X w. Przyporządkuj im odpowiednie nazwy.

	<p>A -</p> <p>B -</p> <p>C -</p> <p>D -</p>
--	---

.... /4

7. Uzupełnij tabelę dotyczącą początków reformacji w Europie.

data	kościół	twórca (imię i nazwisko/przydomek)
A.	B.	Marcin Luter
1534	anglikanizm	C.
1536	kalwinizm	D.

.... /4

8. Zapoznaj się ze zdjęciem i wykonaj polecenia.



Źródło: <http://tiny.pl/gsqql>

A. Nazwij styl, w jakim wybudowano tę budowlę.

..... /1

B. Podaj wiek, w którym pierwsze tego typu budowle pojawiły się na ziemiach polskich.

..... /1

9. Podkreśl cztery rodzaje uzbrojenia używanego przez polskiego husarza w XVII wieku.

arkebuz, hakownica, halabarda, koncerz, kopia, kusza, lanca, łuk, miecz, pistolet, szabla

.... /4

10. Przyporządkuj imię władcy Polski do odpowiedniej dynastii.

A.	August III
B.	Kazimierz II
C.	Władysław IV
D.	Zygmunt I

1.	dynastia Wettinów
2.	dynastia Jagiellonów
3.	dynastia Walezjuszy
4.	dynastia Piastów
5.	dynastia Wazów

A - B - C - D -

.... /2

11. Przeczytaj i uzupełnij tekst.

Jedną z przyczyn słabości Rzeczypospolitej w XVIII było prawo szlachty to wyboru władcy nazywane z języka łacińskiego A. Słabość Polski wykorzystali nasi sąsiedzi, doprowadzając w roku B. do I rozbioru. W celu wzmocnienia państwa przeprowadzono liczne reformy w trakcie trwania Sejmu Wielkiego zwanego C. Jego obradom przewodniczył D. (imię i nazwisko) Niestety nie uchroniło to Rzeczypospolitej przed II rozbiorem w E. r., którego dokonały dwa państwa: Rosja i Prusy. Ostatni rozbiór naszego państwa nastąpił w 1795 r. po nieudanym powstaniu kościuszkowskim.

.... /5

12. Zapoznaj się z mapą i zakreśl właściwą odpowiedź.




Na mapie konturowej współczesnej Polski szarym kolorem pokazano granice

- A. Rzeczypospolitej Polskiej z 1793 r.
- B. Księstwa Warszawskiego z 1807 r.
- C. Księstwa Warszawskiego z 1812 r.
- D. Królestwa Polskiego z 1815 r.

.... /1

13. Podaj imiona i nazwiska postaci oraz napisz jednym zdaniem, czego dokonali.



- A.
- B.
- C.
- D.

.... /8

14. Nazwij opisane pojęcia dotyczące gospodarki z okresu międzywojennego.

A.	Radziecka doktryna gospodarcza z lat 1921-1929 dopuszczająca rynkowe mechanizmy gospodarowania i drobną przedsiębiorczość.
B.	Program amerykańskiego prezydenta F. Roosevelta ogłoszony w 1933r. polegający na pobudzeniu gospodarki poprzez inwestycje państwowe.
C.	Polityka gospodarcza Rosji radzieckiej w latach 1918-1921, polegająca na pełnej mobilizacji środków ludności do prowadzenia wojny.
D.	Okręg przemysłu ciężkiego zbudowany w latach 1936-1939 na terenach centralnej i południowej Polski m.in. w celu walki z bezrobociem.

.... /4

podpis sprawdzającego

suma punktów: